
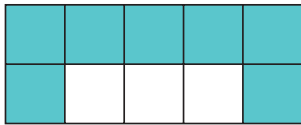
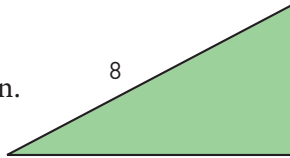



Läxa 24

Efter kapitel 5

- $72 + 139 + 8$
 - $71,5 - 12,8$
 - $5 \cdot 13,4$
- Hur stor är delen?
 - 0,5 av 28 cm
 - två tredjedelar av 45 ml
 - tre tiondelar av 60 kr
- Skriv talen i blandad form.
 - $\frac{7}{3}$
 - $\frac{13}{4}$
 - 1,3
- Skriv volymerna i centiliter.
 - 2,5 liter
 - 8 dl
 - 200 ml
- Klockan 19.45 började Lisa titta på en film. Filmen var 2 h 18 min lång. När var filmen slut?
- Hur stor andel av rektangeln är blå? Svara i bråkform, decimalform och procentform.
 - 
 - 
- En kvadrat har samma omkrets som den här triangeln. Hur mycket större area har kvadraten än triangeln?
- 
-  Det tog två veckor för en kamelkaravan att färdas 413 km mellan två oaser i Saharas öken. Hur många kilometer färdades karavanen per dygn i genomsnitt?
- En resa till Kanarieöarna kostade 9 800 kr. Tre veckor före avresedagen sänktes priset med 20 %. Vad kostade resan efter prissänkningen?
- Om man faller från 5 m höjd så har man hastigheten 10 m/s när man träffar marken. Hur många kilometer i timmen (km/h) motsvarar det?

Veckans problem

Emil frågar en dag bonden Lidén hur många kor och hur många ankor han har på sin gård. Lidén tänkte en stund och svarade sen: "Våra kossor och ankor har tillsammans 45 huvuden och 120 ben." Emil, som var minst lika klurig som Lidén, behövde inte tänka länge utan förstod direkt svaret på sin egen fråga. Vad var rätt svar?